

SPORTS D'HIVER

Pass
Education



SAINT-LARY
SOULAN

Vivre les Pyrénées

Fichier
d'activités



**CE1 /
CE2**

CORRECTION



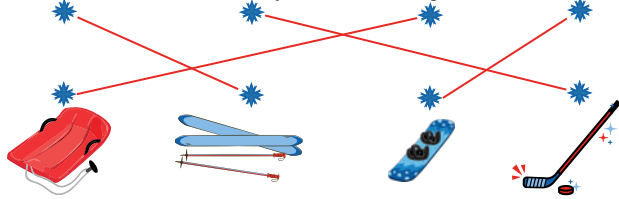
CORRECTIONS

Lexique :

1. Ordre des images :



2. ski de fond hockey luge snowboard



Lecture :

- La phrase fautive est : **Paul a déjà fait du ski avant aujourd'hui.**
- Ce matin en sortant du chalet, Paul entend le bruit de la neige qui **craque** sous ses pas. Sur les pistes, le moniteur dit à Paul de rester **calme** et de regarder **devant lui**. Pour faire leur bonhomme de neige, Paul et ses amis utilisent une **carotte** pour le nez et des **branches** pour les bras.
- Que ressent Paul avant de commencer à skier ? Comment Paul se sent-il après sa première descente ?

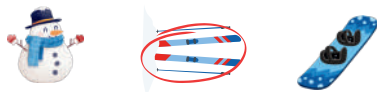
<input type="checkbox"/> Il est très confiant	<input checked="" type="checkbox"/> Fier de lui.
<input checked="" type="checkbox"/> Il est un peu nerveux.	<input type="checkbox"/> Déçu d'avoir échoué.
<input type="checkbox"/> Il n'a pas peur du tout.	<input type="checkbox"/> Triste de ne pas y arriver.

DDM - les montagnes :

- Réponses à cocher dans l'ordre : **Les Alpes - Les Pyrénées - Le Massif Central - Les Vosges - Le Jura**
- Le Massif Central le ski de fond.
 Les Vosges la randonnée en raquettes.
 Le Jura la luge.
 Les Pyrénées le ski alpin.
 Les Alpes Le ski nordique.

Bonus : les sportifs :

Jean-Claude Killy



Philippe Caneloro



Perrine Laffont



Histoire des arts :

- Parce qu'il aimait montrer la beauté sauvage et calme de la nature.
Parce que les montagnes en hiver lui rappelaient son enfance près du Jura.
- Gustave Courbet était un peintre **français**.
Il aimait peindre des paysages en **hiver**.
Il a peint " Le Grand **Chêne** sous la neige".
Il a grandi près des montagnes du **Jura**.


Problèmes:

- Matin : $14 + 8 = 22$
Après-midi : $7 + 5 = 12$ } Total de la journée : $22 + 12 = 34$
Il y a eu 34 enfants qui ont participé aux cours de ski.
- Total des planches louées : $78 + 42 = 120$
Planches restantes : $250 - 120 = 130$
Il reste 130 planches à la station.
- $6 \times 3 = 18$ (ou $3+3+3+3+3+3 = 18$)
Ils ont construit 18 bonhommes de neige.
- $20 / 4 = 5$
Chaque groupe reçoit 5 tickets.

E.M.C:

1.	vrai	faux
Il faut toujours doubler les skieurs devant soi, même s'ils ne te voient pas.		X
Si tu tombes sur la piste, il vaut mieux se lever rapidement.	X	
On peut aller aussi vite qu'on veut, même si on ne contrôle pas bien ses skis.		X
Les skieurs qui sont devant toi ont la priorité.	X	

2.



Le skieur en rouge boucle le skieur qui est devant lui, il ne semble pas avoir le contrôle de ses skis.
Il se dirige vers une zone dangereuse. Il coupe la piste du skieur qui le précède.


DDM - La faune et la flore :

- La marmotte cherche de la nourriture dans la neige.
 Le chamois chasse les rongeurs sous la neige.
 Le lièvre variable change de couleur pour se camoufler.
 Le renard hiberne pendant l'hiver.
- Les sapins **ne perdent pas** leurs aiguilles en hiver.
 Les lichens poussent sur **des rochers** ou des troncs d'arbres.
 Les fleurs de montagne poussent **au printemps**.
 Les sapins sont **toujours verts** même en hiver.

Bonus : les médailles :

Flocon : **pour ceux qui commencent à glisser et à s'arrêter.**
 1ère étoile : **pour ceux qui savent skier sur une piste verte.**
 3ème étoile : **pour ceux qui peuvent descendre rapidement une piste rouge.**

Bonus : les jeux :



Il y a **8 paires** de skis.



De la
maternelle
au lycée

Pass Education



Mon Site de soutien scolaire !

+ de 35 000 fiches de révision

+ de 5000 jeux éducatifs gratuits en ligne

Apprendre en s'amusant !

- Vidéos éducatives en mathématiques, histoire-géographie, anglais, français etc...
- Lectures à thème, Actualités et Conseils, Cahiers de vacances (Toussaint, Noël, Pâques, ..), ..

